

Tableur

	A	B	C	D	E
1		Blé	Maïs	Tournesol	Colza
2	Juillet	5 000	-	-	1 700
3	Août	8 100	7 300	5 400	4 500
4	Septembre	-	12 000	6 800	-
5	Total	13 100	19 300	12 200	6 200

Tableau

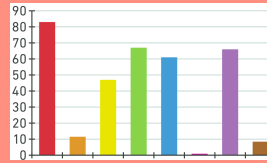


Diagramme à barres

Graphique cartésien

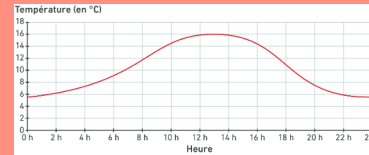
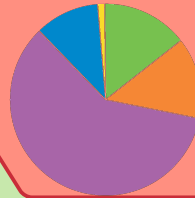
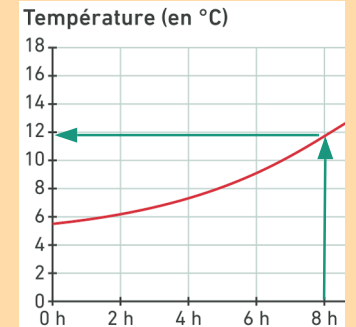


Diagramme circulaire



Un tour complet correspond à un angle de 360°

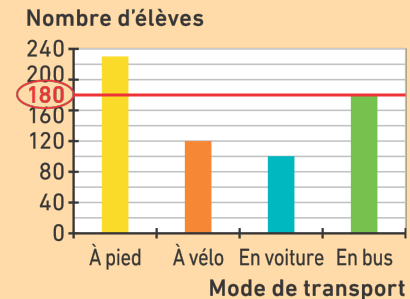
Lire sur un graphique cartésien



A 8h il faisait 12°C

Comment ?

Lire sur un diagramme à barres



180 élèves viennent en bus

Vocabulaire

Propriétés

Gestion de données

Lire des données dans un tableau

Présenter des données dans un tableau

Lire des données dans un diagramme

Présenter des données avec un diagramme

Pourquoi ?

Calculer les angles des secteurs d'un diagramme circulaire par proportionnalité

	Alain	Béa	Cyril	Daisy	Total
Votes	7	5	3	9	24
Angle	105	75	45	135	360